

入塾試験体験版 小4算数

1. 次の計算をしましょう。4問×6点=24点

(1) $28 + 33$

(2) $125 - 36$

(3) 37×8

(4) $96 \div 16$

2. 次の計算をしましょう。3問×6点=18点

(1) $498 + 109$

(2) $502 - 293$

(3) 89×15

3. 次の にあてはまる数を書き入れましょう。3問×6点=18点

(1) $200 \text{ 秒} = \text{ 分 } \text{ 秒}$

分 秒

(2) $800 \text{ mm} = \text{ cm}$

cm

(3) $1 \text{ kg } 25 \text{ g} = \text{ g}$

g

3. 次の問いに答えましょう。5問×5点=25点

(1) 150円のノート6さつと、消しゴムを2こ買って、1000円はらいました。消しゴムのねだんは何円でしょう。

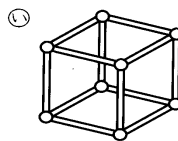
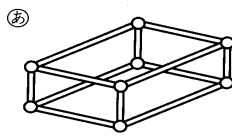
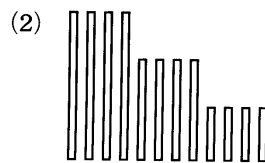

円

(2) 太郎君は、1本55円のえん筆を9本買いましたが、店の人が100円まけてくれたので、まだおかねが210円のこっています。

太郎君は、はじめ何円もっていたでしょう。

円

(3) ひごとねんどではこの形を作ります。つぎのひごでできるのは、㉞と㉟のどちらですか。



(1)

(2)

(4) お姉さんは、シールをわたしの3倍より4枚多くもっているそうです。お姉さんは40枚もっています。2人合わせて何まいもっていますか。

まい

4. 右の表は、みち子さんの学校の3年生がどの町に何人ずつすんでいるかをしらべたものです。

3問×5点=15点

3年生の町べつの人数(人)

町 \ 組	1	2	3	合計
本町	10	8	11	29
中町	9	12	14	35
南町	18	19	13	50
合計	37	39	38	

(1) 本町にすんでいる1組の人は南町にすんでいる3組の人より何人少ないか。

人少ない

(2) みち子さんの学校の3年生の人数は、ぜんぶで何人ですか。

人

(3) 中町にすんでいる2組の人が何人かひっこしたため、南町にすんでいる人数は中町にすんでいる2組の人数のちょうど5倍になりました。何人ひっこしたでしょう。

人